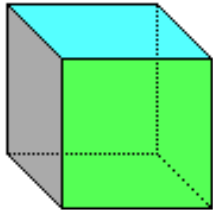


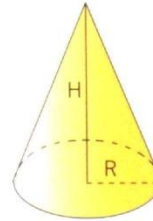
Estudiante: _____
 Grupo: _____ Fecha: _____ Cal: _____

**INSTRUCCIONES: DE LOS SIGUIENTES CUERPOS GEOMÉTRICOS
 CONTESTA LO QUE SE TE PIDE**



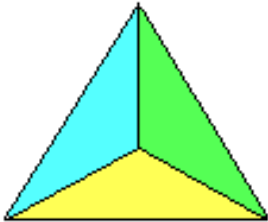
NOMBRE DEL CUERPO GEOMÉTRICO _____

NÚMERO DE PLANOS _____
 NÚMERO DE PUNTOS _____
 NÚMERO DE ARISTAS _____
 NÚMERO DE CARAS _____
 NÚMEROS DE VÉRTICES _____



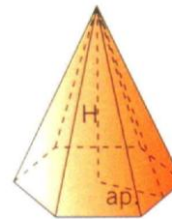
NOMBRE DEL CUERPO GEOMÉTRICO _____

NÚMERO DE PLANOS _____
 NÚMERO DE PUNTOS _____
 NÚMERO DE ARISTAS _____
 NÚMERO DE CARAS _____
 NÚMEROS DE VÉRTICES _____



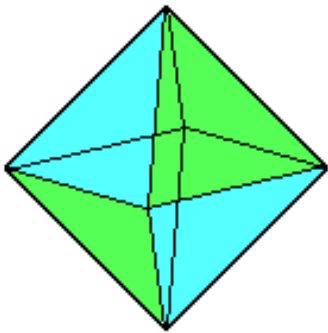
NOMBRE DEL CUERPO GEOMÉTRICO _____

NÚMERO DE PLANOS _____
 NÚMERO DE PUNTOS _____
 NÚMERO DE ARISTAS _____
 NÚMERO DE CARAS _____
 NÚMEROS DE VÉRTICES _____




NOMBRE DEL CUERPO GEOMÉTRICO _____

NÚMERO DE PLANOS _____
 NÚMERO DE PUNTOS _____
 NÚMERO DE ARISTAS _____
 NÚMERO DE CARAS _____
 NÚMEROS DE VÉRTICES _____




NOMBRE DEL CUERPO GEOMÉTRICO _____

NÚMERO DE PLANOS _____
 NÚMERO DE PUNTOS _____
 NÚMERO DE ARISTAS _____
 NÚMERO DE CARAS _____
 NÚMEROS DE VÉRTICES _____



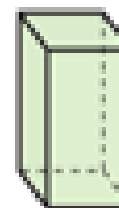
NOMBRE DEL CUERPO GEOMÉTRICO _____

NÚMERO DE PLANOS _____
 NÚMERO DE PUNTOS _____
 NÚMERO DE ARISTAS _____
 NÚMERO DE CARAS _____
 NÚMEROS DE VÉRTICES _____



NOMBRE DEL CUERPO GEOMÉTRICO _____

NÚMERO DE PLANOS _____
 NÚMERO DE PUNTOS _____
 NÚMERO DE ARISTAS _____
 NÚMERO DE CARAS _____
 NÚMEROS DE VÉRTICES _____



NOMBRE DEL CUERPO GEOMÉTRICO _____

NÚMERO DE PLANOS _____
 NÚMERO DE PUNTOS _____
 NÚMERO DE ARISTAS _____
 NÚMERO DE CARAS _____
 NÚMEROS DE VÉRTICES _____